

SUMMER HOLIDAYS HOMEWORK (2024-25)

CLASS IV

ENGLISH

Q1. Read the passage carefully and answer the following questions.

We live on the Earth. The Earth is very big. The Earth is almost as round as a ball. It spins every day. It has land where people and animals live. It also has oceans, where fish and whales live.

A globe is a model of the earth. It looks like the Earth. A globe is also round in shape. The Earth and a globe are of the same shape. We use a globe to learn about the Earth. A globe has pictures of land and water on it. The Earth spins and travels around the Sun. We can make the globe spin too. It is fun to learn about the Earth with the help of a globe.

A. Complete the sentences.

1. The Earth is _____
2. The Earth is shaped like a _____
3. The Earth and a globe are of the _____
4. Fish and the whales live in the _____
5. The Earth spins and travel around the _____

B. Answer the following questions.

1. What is a globe?
2. How do we learn about the Earth?

C. Find the opposite of the following from the passage.

1. Different
2. Small

D. Write the word meaning of the word "Spin". Make sentence also.

Writing Skill

Q2. Write a letter to your friend inviting him/her to spend holidays with you.

Q3. Write a short summary of the chapter 'The Key to the Garden' –

1 & 2 in your words

Q4. Name the person you like the most and write 10 lines why you like him/her.

Q5. Paste picture and write 7-8 lines about it.

(Refer page no. 125 in your grammar book.)

Q6. ENGLISH GRAMMAR WORKSHEET

CHAPTER- THE SENTENCES

A. Rewrite the following groups of words as sentences .

- a. Priya this dress gave me
-

b. White colour is the in moon

c. piano have a I home at

B. Make sentences by using the following groups of words.

a. The tiger _____

b. The sky _____

c. Snakes _____

d. Marigold _____

C. Circle the subject and underline the predicate.

a. I lost a tooth yesterday

b. My pillow is very soft.

c. Krishna has two children.

d. Meena and Sunny are sisters.

D. Identify the different types of sentences as interrogative, imperative, negative, exclamatory or statements.

a. I had soup just now. _____

b. The chair is not broken. _____

c. Does Kiran live in Delhi? _____

d. Behave yourself. _____

e. Wow! That is a beautiful dress. _____

E. Change the given sentences into interrogative sentences.

a. This book is interesting.

b. I am wearing a cotton shirt.

c. This is a scary movie.

d. They are going to England.

F. Change the given sentences into negative sentences.

a. Vani is here.

b. Sohan has a pet dog.

c. Kiara and Lily are cousins.

d. Hide here.

- Do all work in a separate notebook.
- Complete your cursive writing book.

HINDI

1. नीचे दिए गए अनुच्छेद को पढ़िए और प्रश्नों के उत्तर लिखिए।

प्रत्येक व्यक्ति के जीवन में विद्यालय का बहुत महत्व होता है। प्रत्येक शिक्षित व्यक्ति अपने जीवन में शिक्षा ग्रहण करने का आरंभ विद्यालय से ही करता है। विद्यालय में दी जाने वाली शिक्षा का स्तर अच्छा होगा तो विद्यार्थियों का स्तर भी अच्छा होगा। एक विद्यालय हजारों विद्यार्थियों के हृदय में ज्ञान का प्रकाश भर देते हैं। श्रेष्ठ अध्यापकों और अध्यापिकाओं को विद्यार्थी अपने जीवन में सदा स्मरण रखते हैं। वे अपने विद्यालयों को भी नहीं भूलते।

प्र.1. प्रत्येक शिक्षित व्यक्ति क्या करता है?


प्र.2. विद्यार्थियों का स्तर अच्छा कैसे होता है?

प्र.3. विद्यालय कैसे प्रकाश भर देता है?

प्र.4. प्रत्येक और शिक्षित शब्द का वाक्य बनाइए।

प्र.5. अनुच्छेद का 'शीर्षक' लिखिए।

2. रोज एक पेज सुलेख लिखो। (सुलेख पुस्तक में करें।)
3. 'पुस्तकों का महत्व' विषय पर अनुच्छेद याद करके कक्षा में सुनाएं।
4. गृह कार्य ना करके लाने को लेकर अध्यापिका और विद्यार्थी के बीच संवाद लिखिए।
5. भारत के किसी एक 'स्मारक' के बारे में जानकारी एकत्रित करें व उसका सुंदर सा चित्र बनाकर उसके बारे में 5 वाक्य लिखे।
6. नीचे दिए गए चित्र को देखकर कहानी को पूरा करें।



असाइनमेंट

1. नीचे दिए गई भाषाओं की लिपियां लिखिए।

पंजाबी

नेपाली

मैथिली

असमिया

तेलगु

जर्मन

2. नीचे दी गई अलग-अलग राज्यों की भाषाओं के नाम लिखिए।

क. गुजरात

ख. असम

ग. पंजाब

घ. बंगाल

ङ. केरल

च. महाराष्ट्र

छ. तमिलनाडु

3. द्वित्व व्यंजन या संयुक्त व्यंजन के प्रयोग से दो दो शब्द बनाइए।

क. च्च

ख. प्प

ग. म्म

घ. क्ख

ङ. स्स

4. नीचे दिए गए शब्दों में सही स्थान पर अनुस्वार (ं) या अनुनासिक (ँ) लगाइए।

सिह

चाद

साप

कस

अदर

कस

5. नीचे लिखे वर्णों को जोड़कर शब्द बनाइए।

क. त्+उ+ल्+अ+स्+ई -

ख. क्+इ+न्+आ+र्+आ -

ग. ग् + न् + ग् + आ -

घ. स्+उ+न्+द्+अ+र्+अ -

ङ. ब्+आ+द्+अ+ल्+अ -

6. 'र' के विभिन्न रूपों से बने दो दो शब्द लिखिए।

च. र्क

ख. क्र

ग. ड्र

घ. रू

7. नीचे दिए गए शब्दों से भाववाचक संज्ञा बनाइए।

क. बच्चा

ख. वीर

ग. हारना

घ. मित्र

ङ अच्छा

च. मोटा

8. दिए गए शब्दों को छांटकर उचित स्थान पर भरिए।

(महात्मा गांधी, हिमालय, शत्रुता, लाल किला, बनावट, बुढ़ापा, मूर्खता, वीरता, बचपन)

व्यक्तिवाचक संज्ञा जातिवाचक संज्ञा भाववाचक संज्ञा

_____	_____	_____
_____	_____	_____
_____	_____	_____

9. निम्नलिखित वाक्यों में संज्ञा शब्दों को रेखांकित कीजिए।

क. दादाजी अखबार पढ़ रहे हैं।

ख. अंकित विद्यालय जा रहा है।

ग. मोर नाच रहा है।

घ. बच्चे झूला झूल रहे हैं।

ङ. दीपक ने एक बड़ा सा गुब्बारा खरीदा।

10. अपने घर के आस-पास से तीन-तीन नाम ढूंढकर लिखिए।

व्यक्तियों के नाम स्थान के नाम वस्तुओं के नाम

_____	_____	_____
_____	_____	_____
_____	_____	_____

(नोट- सभी कार्य एक अलग कॉपी में करें।)

(कॉपी और पुस्तक कार्य याद करें।)

MATHS

Q1. Make a chart of Roman numbers of the following numbers using Matchsticks.

- 34
- 91
- 74
- 52
- 46
- 28
- 88
- 65
- 110
- 322

➤ Do the given below worksheet in a separate notebook.

Worksheet

Q1. Write the number name and expanded form of 3,42,958.

Q2. Form the smallest and greatest 5-digit numbers using 5,2,7,4.

Q3. Round off 2,63,389 to the nearest 10,100 and 1000.

Q4. Write the roman numbers for the following –

- a) 68
- b) 42
- c) 93

Q5. Write the Hindu-Arabic numbers for the following –

- a) XXVI
- b) CCXXXI
- c) XLV

Q6. Find the sum and difference of the place value of 7 in 5,97,784.

Q7. Arrange in columns and add-

- a) $32058+6472$
- b) $25691+4637+531$

Q8. Add 4596 and 8418. Check the answer by adding in reverse order.

Q9. Arrange in columns and subtract-

- a) $5689-1752$
- b) $97574-64065$

Q10. Subtract 38217 from 79144. Check with addition.

Q11. Solve step-wise-

- a) $8450 + 1689 - 3526$
- b) $7950 - 5663 + 897$

Q12. Find the number that is –

- a) 1672 more than 4728
- b) 3718 less than 9920

Q13. What should be added to 6848 to get 12169?

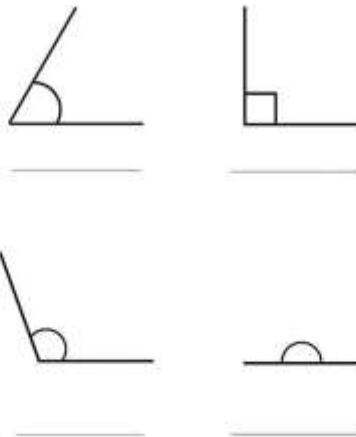
Q14. Estimate the sum and difference of 642 and 189 to the nearest 100.

Q15. A city has 72,180 people. Out of them, 14,350 are men and 40,752 are women. How many children are there?

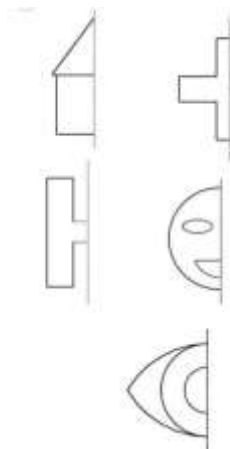
Q16. Draw the line segments of following length:

- a) 7cm
- b) 10cm

Q17. Classify the types of angles.



Q18. Draw the other half of the symmetrical shapes.



Q19. Complete the pattern:

- a) 4,8,10, ____, ____, ____
- b) 29,25,21, ____, ____, ____

Q20. Draw a circle of radius 5cm using a compass.

EVS

Q1. Make a collage of at least four animal groups. Take any one group and jot down the reasons of why they live together in a group and are dependent on each other.

Q2. Design a "family values" poster showcasing the important principles and beliefs your family holds dear.

Q3. Make a preparedness kit checklist (on A-4 sheet) for different types of natural disasters including food items like food, water, first aid supplies, flashlights and batteries. Explain why each item is important and how it can help keep you safe during an emergency.

Q4. Draw colourful pictures of different insects like butterflies, ants and bees. Write down interesting facts about each one like what they eat and where they live.

Q5. Design and construct a model showcasing the life cycle of a butterfly including the stages of egg, larva (caterpillar), pupa and adult butterfly. Use materials like clay, paper or recycled materials to represent each stage.

Q6. What will you do in a situation when you notice that an area in your nearby park littered with cans, empty packets of chips, plastic bottles etc. ?

COMPUTER

Q1. Create a word document file and write a paragraph on increasing trend of computer technology in today's world. Take a print of it and paste it in a scrap file used for previous task.

Q2. How you take proper care of your computer? Write five points.

ART

These pages you have to do in your Art book .

- Book Page no.8 (Rangoli Design)
- Book Page no.10 (Paper Flower)
- Book Page no. 14 (Decoration)

CRAFT

Create a Birdhouse (You have to create a blueprint of the birdhouse, measure all the sides, properly construct it, and then decorate it.) use waste materials.